



quadern de
matemàtiques



Sumes sense portar-ne.

quadern de matemàtiques

1

projecte educatiu Faro



Este llibre està imprès sobre paper reciclable, ecològic, lliure de clor, i contribueix al desenvolupament sostenible dels boscos.

Il·lustració:

Gustavo Otero

Edició:

Equip Dylar

Maquetació:

copion

Impressió:

Brosmac, S.L.

ISBN Quadern: 978-84-95280-51-0

Dipòsit Legal:

© Projecte educatiu Faro.



www.dylar.es
e-mail: dylar@dylar.es
Tel.: 902 44 44 13



i



són



1

4

i

4

són

2



i



són



2

i

són



i



són



3

+

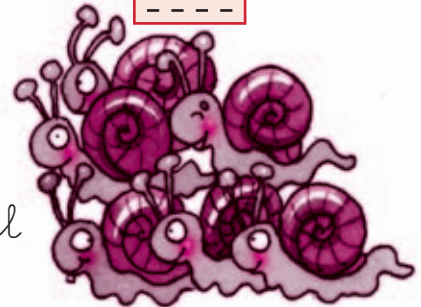
=



més



igual



4

3

+

3

=





més



igual



5

+


=



més



igual



6

+

=



més



igual



7

+

=



més



igual




8

+


=





3 arbres
+ 2 arbres

9 $3 \text{ arbres} + 2 \text{ arbres} = \square \text{ arbres}$



1 cotxe
+ 2 cotxes

10 $1 \text{ cotxe} + 2 \text{ cotxes} = \square \text{ cotxes}$

11 Suma.

$1 + 1 = \square$

$1 + 4 = \square$

$3 + 1 = \square$

$1 + 5 = \square$

$1 + 3 = \square$

$2 + 1 = \square$

12

$$\begin{array}{r} 5 \\ +1 \\ \hline \square \end{array}$$

$$\begin{array}{r} 3 \\ +1 \\ \hline \square \end{array}$$

$$\begin{array}{r} 1 \\ +4 \\ \hline \square \end{array}$$

$$\begin{array}{r} 1 \\ +1 \\ \hline \square \end{array}$$

$$\begin{array}{r} 2 \\ +1 \\ \hline \square \end{array}$$

$$\begin{array}{r} 1 \\ +3 \\ \hline \square \end{array}$$



13



$$4 + 2 = \begin{array}{r} 4 \text{ sabates} \\ +2 \text{ sabates} \\ \hline \square \text{ sabates} \end{array}$$

14 Suma.

$4 + 1 =$

$1 + 6 =$

$5 + 1 =$

$1 + 0 =$

$2 + 3 =$

$2 + 5 =$

$2 + 2 =$

$1 + 2 =$

$$\begin{array}{r} 3 \\ +3 \\ \hline \end{array}$$

$$\begin{array}{r} 3 \\ +5 \\ \hline \end{array}$$

$$\begin{array}{r} 6 \\ +1 \\ \hline \end{array}$$

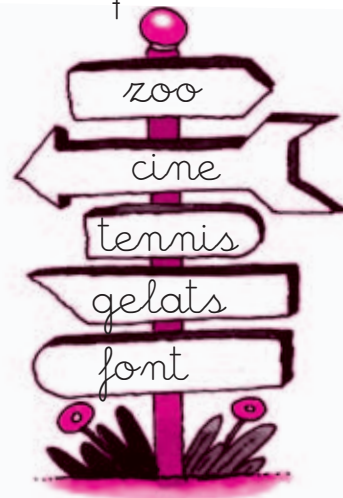
$$\begin{array}{r} 3 \\ +0 \\ \hline \end{array}$$

$$\begin{array}{r} 5 \\ +2 \\ \hline \end{array}$$

$$\begin{array}{r} 4 \\ +4 \\ \hline \end{array}$$

15 Colora els cartells que assenyalen cap a la dreta

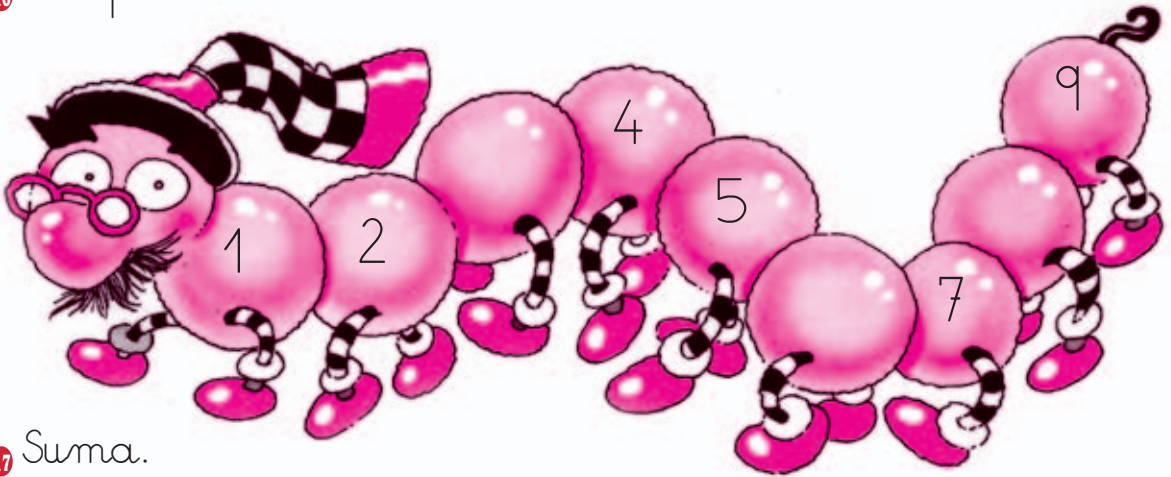
I ara els que assenyalen cap a l'esquerra.



esquerra | dreta



16 Completa la sèrie.



17 Suma.

$$\begin{array}{r} 5 \\ +1 \\ \hline \end{array}$$

$$\begin{array}{r} 2 \\ +6 \\ \hline \end{array}$$

$$\begin{array}{r} 5 \\ +4 \\ \hline \end{array}$$

$$\begin{array}{r} 6 \\ +3 \\ \hline \end{array}$$

$$\begin{array}{r} 5 \\ +3 \\ \hline \end{array}$$

$$\begin{array}{r} 3 \\ +6 \\ \hline \end{array}$$

$$\begin{array}{r} 1 \\ +7 \\ \hline \end{array}$$

$$\begin{array}{r} 7 \\ +2 \\ \hline \end{array}$$


$$\begin{array}{r} 6 \\ +1 \\ \hline \end{array}$$

$$\begin{array}{r} 5 \\ +0 \\ \hline \end{array}$$

$$\begin{array}{r} 8 \\ +1 \\ \hline \end{array}$$

$$\begin{array}{r} 5 \\ +4 \\ \hline \end{array}$$

18 Suma els nombres que hi ha sota la taula.
Després colora els objectes que hi ha al damunt.



$$\begin{array}{r} \\ + \\ \hline \end{array} = \bigcirc$$

19 $2+4=$
 $3+6=$

$1+8=$
 $8+0=$

$2+7=$
 $7+2=$

$4+3=$
 $6+2=$





$$\begin{array}{r} 6 \text{ préssecs} \\ +4 \text{ préssecs} \\ \hline \end{array}$$

20 $6 \text{ préssecs} + 4 \text{ préssecs} = \boxed{} \dots\dots\dots$

21 Suma.

$$\begin{array}{r} 7 \\ +3 \\ \hline \end{array}$$

$7+3 = \boxed{}$

$$\begin{array}{r} 5 \\ +5 \\ \hline \end{array}$$

$5+5 = \boxed{}$

$$\begin{array}{r} 8 \\ +2 \\ \hline \end{array}$$

$8+2 = \boxed{}$

22
$$\begin{array}{r} 3 \\ +7 \\ \hline \end{array}$$

$$\begin{array}{r} 8 \\ +2 \\ \hline \end{array}$$

$$\begin{array}{r} 4 \\ +6 \\ \hline \end{array}$$

$$\begin{array}{r} 5 \\ +5 \\ \hline \end{array}$$

$$\begin{array}{r} 9 \\ +1 \\ \hline \end{array}$$

$$\begin{array}{r} 7 \\ +3 \\ \hline \end{array}$$

$$\begin{array}{r} 8 \\ +3 \\ \hline \end{array}$$

$$\begin{array}{r} 6 \\ +2 \\ \hline \end{array}$$

$$\begin{array}{r} 5 \\ +8 \\ \hline \end{array}$$

$$\begin{array}{r} 4 \\ +7 \\ \hline \end{array}$$

$$\begin{array}{r} 5 \\ +6 \\ \hline \end{array}$$

$$\begin{array}{r} 6 \\ +0 \\ \hline \end{array}$$

23 Quants cavalls hi ha davant de la tanca?

