



quadern de  
**matemàtiques**



**Sumes i restes combinades.**

# quadern de matemàtiques

# 5

## projecte educatiu Faro



Este llibre està imprès sobre paper reciclable, ecològic, lliure de clor, i contribueix al desenvolupament sostenible dels boscos.

**Il·lustració:**

Gustavo Otero

**Edició:**

Equip Dylar

**Maquetació:**

copion

**Impressió:**

Brosmac, S.L.

**ISBN Quadern:** 978-84-95280-55-8

**Dipòsit Legal:**

© Projecte educatiu Faro.



www.dylar.es  
e-mail: dylar@dylar.es  
Tel.: 902 44 44 13



1 Podries omplir totes les ampolles amb el vi de la bóta?..... Quantes ampolles ompliries? .....  
 I quantes en quedarien buides?.....

2 Calcula.

$$\begin{array}{r} 34 \\ +16 \\ \hline \end{array}$$

$$\begin{array}{r} 52 \\ +37 \\ \hline \end{array}$$

$$\begin{array}{r} 43 \\ +71 \\ \hline \end{array}$$

$$\begin{array}{r} 35 \\ +23 \\ \hline \end{array}$$

$$\begin{array}{r} 207 \\ +75 \\ \hline \end{array}$$

$$\begin{array}{r} 734 \\ +29 \\ \hline \end{array}$$

$$\begin{array}{r} 67 \\ +52 \\ \hline \end{array}$$

$$\begin{array}{r} 835 \\ +67 \\ \hline \end{array}$$

$$\begin{array}{r} 693 \\ +84 \\ \hline \end{array}$$

$$\begin{array}{r} 16 \\ +46 \\ \hline \end{array}$$

$$\begin{array}{r} 446 \\ +300 \\ \hline \end{array}$$

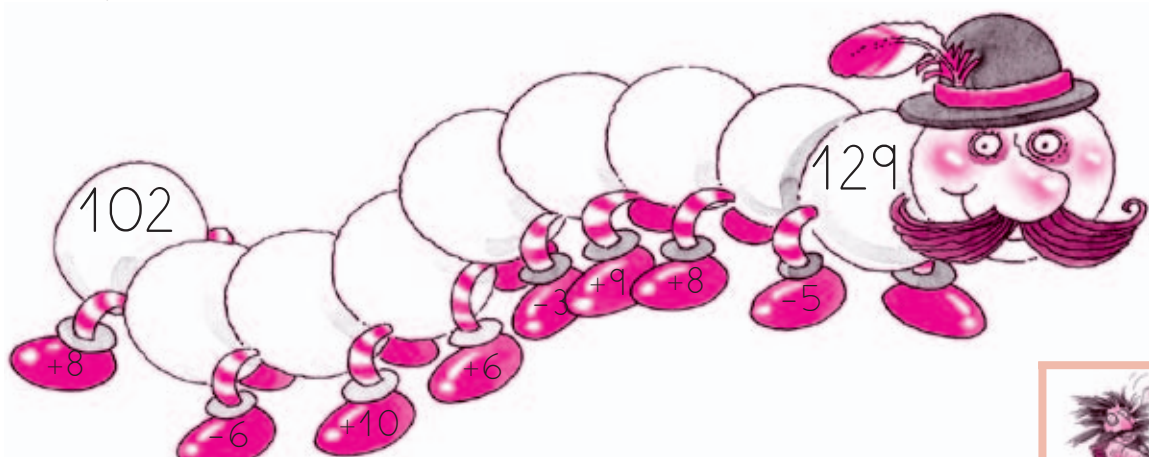
$$\begin{array}{r} 562 \\ +134 \\ \hline \end{array}$$

$$\begin{array}{r} 227 \\ +368 \\ \hline \end{array}$$

$$\begin{array}{r} 344 \\ +284 \\ \hline \end{array}$$

$$\begin{array}{r} 386 \\ +391 \\ \hline \end{array}$$

3 Completa.



4 Suma.

$$\begin{array}{r} 398 \\ + 42 \\ \hline \end{array}$$

$$\begin{array}{r} 256 \\ + 121 \\ \hline \end{array}$$

$$\begin{array}{r} 123 \\ + 671 \\ \hline \end{array}$$

$$\begin{array}{r} 395 \\ + 66 \\ \hline \end{array}$$

$$\begin{array}{r} 158 \\ + 802 \\ \hline \end{array}$$

$$\begin{array}{r} 565 \\ + 426 \\ \hline \end{array}$$

$$\begin{array}{r} 127 \\ + 793 \\ \hline \end{array}$$

$$\begin{array}{r} 496 \\ + 284 \\ \hline \end{array}$$

$$\begin{array}{r} 791 \\ + 11 \\ \hline \end{array}$$

$$\begin{array}{r} 325 \\ + 673 \\ \hline \end{array}$$

5 Completa el quadre.

nombre.	nom del nombre.	c	d	u
	tres-cents vuitanta-dos			
		2	5	1
215				
	quatre-cents cinc			

6 Calcula mentalment la suma de cada dau i ordena de menor a major.



< < < <

7 Resta.

$$\begin{array}{r} 47 \\ - 24 \\ \hline \end{array}$$

$$\begin{array}{r} 18 \\ - 16 \\ \hline \end{array}$$

$$\begin{array}{r} 61 \\ - 43 \\ \hline \end{array}$$

$$\begin{array}{r} 59 \\ - 38 \\ \hline \end{array}$$

$$\begin{array}{r} 38 \\ - 26 \\ \hline \end{array}$$

$$\begin{array}{r} 25 \\ - 17 \\ \hline \end{array}$$

$$\begin{array}{r} 63 \\ - 47 \\ \hline \end{array}$$

$$\begin{array}{r} 51 \\ - 33 \\ \hline \end{array}$$

$$\begin{array}{r} 82 \\ - 18 \\ \hline \end{array}$$



8 Completa.

$\begin{array}{r} \boxed{72} \\ + \\ \boxed{47} \end{array}$	$\begin{array}{r} \boxed{\phantom{00}} \\ + \\ \boxed{32} \end{array}$	$\begin{array}{r} \boxed{\phantom{00}} \\ + \\ \boxed{73} \end{array}$	$\begin{array}{r} \boxed{\phantom{00}} \\ + \\ \boxed{95} \end{array}$
$\begin{array}{r} 25 \\ + \\ 66 \\ \hline \end{array}$	$\begin{array}{r} 27 \\ + \\ 87 \\ \hline \end{array}$		

9 Calcula.

$$\begin{array}{r} 147 \\ + 622 \\ \hline \end{array}$$

$$\begin{array}{r} 308 \\ + 555 \\ \hline \end{array}$$

$$\begin{array}{r} 275 \\ + 473 \\ \hline \end{array}$$

$$\begin{array}{r} 476 \\ + 85 \\ \hline \end{array}$$

$$\begin{array}{r} 653 \\ + 95 \\ \hline \end{array}$$

$$\begin{array}{r} 660 \\ + 231 \\ \hline \end{array}$$

$$\begin{array}{r} 407 \\ + 123 \\ \hline \end{array}$$

$$\begin{array}{r} 487 \\ + 474 \\ \hline \end{array}$$

$$\begin{array}{r} 348 \\ + 20 \\ \hline \end{array}$$

$$\begin{array}{r} 96 \\ + 48 \\ \hline \end{array}$$

$$\begin{array}{r} 71 \\ - 20 \\ \hline \end{array}$$

$$\begin{array}{r} 83 \\ - 19 \\ \hline \end{array}$$

$$\begin{array}{r} 39 \\ - 24 \\ \hline \end{array}$$

$$\begin{array}{r} 46 \\ - 37 \\ \hline \end{array}$$

$$\begin{array}{r} 99 \\ - 30 \\ \hline \end{array}$$

10 Colora els pantalons de la quarta part dels follets. Després colora els barrets de la meitat dels follets.

Quants follets són la meitat? -----

I quants follets en són la quarta part?-----



11 Calcula.

$$\begin{array}{r} 82 \\ + 93 \\ \hline \end{array}$$

$$\begin{array}{r} 729 \\ + 188 \\ \hline \end{array}$$

$$\begin{array}{r} 393 \\ + 539 \\ \hline \end{array}$$

$$\begin{array}{r} 720 \\ + 183 \\ \hline \end{array}$$

$$\begin{array}{r} 678 \\ + 211 \\ \hline \end{array}$$

$$\begin{array}{r} 77 \\ - 42 \\ \hline \end{array}$$

$$\begin{array}{r} 80 \\ - 31 \\ \hline \end{array}$$

$$\begin{array}{r} 47 \\ - 24 \\ \hline \end{array}$$

$$\begin{array}{r} 69 \\ - 51 \\ \hline \end{array}$$

$$\begin{array}{r} 56 \\ - 17 \\ \hline \end{array}$$

$$\begin{array}{r} 581 \\ - 33 \\ \hline \end{array}$$

$$\begin{array}{r} 893 \\ - 59 \\ \hline \end{array}$$

$$\begin{array}{r} 254 \\ - 125 \\ \hline \end{array}$$

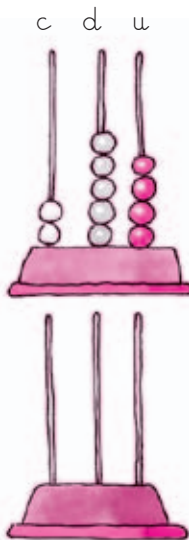
$$\begin{array}{r} 393 \\ - 57 \\ \hline \end{array}$$

$$\begin{array}{r} 940 \\ - 171 \\ \hline \end{array}$$

12 Completa mentalment.

<b>+</b>	71	47	23	82
10				
15				
20				
25				

13 Escribe los números.




---



---




---




---

Tres-cents  
cinc

14 Completa.



15 Completa.



16 Escriu els dos nombres anteriors i els dos posteriors.

		100		
		219		
		421		
		93		
		342		

anteriors

posteriors

17 Resol.

$$\begin{array}{r} 47 \\ 3 \\ +62 \\ \hline \end{array}$$

$$\begin{array}{r} 67 \\ 8 \\ +74 \\ \hline \end{array}$$

$$\begin{array}{r} 71 \\ 46 \\ + 6 \\ \hline \end{array}$$

$$\begin{array}{r} 3 \\ 65 \\ +50 \\ \hline \end{array}$$

$$\begin{array}{r} 76 \\ 2 \\ +29 \\ \hline \end{array}$$

$$\begin{array}{r} 49 \\ -31 \\ \hline \end{array}$$

$$\begin{array}{r} 73 \\ -61 \\ \hline \end{array}$$

$$\begin{array}{r} 53 \\ -25 \\ \hline \end{array}$$

$$\begin{array}{r} 17 \\ -12 \\ \hline \end{array}$$

$$\begin{array}{r} 90 \\ -37 \\ \hline \end{array}$$

$$\begin{array}{r} 396 \\ - 68 \\ \hline \end{array}$$

$$\begin{array}{r} 465 \\ - 77 \\ \hline \end{array}$$

$$\begin{array}{r} 125 \\ -109 \\ \hline \end{array}$$

$$\begin{array}{r} 497 \\ -129 \\ \hline \end{array}$$

$$\begin{array}{r} 596 \\ -237 \\ \hline \end{array}$$

18



Fixat en la gent de la cua. Ara envolta de blau al 5é i al 8é: de verd al 2n i al 4t. Senyala amb una creu el seté.



19 Calcula.

$$\begin{array}{r} 482 \\ -396 \\ \hline \end{array}$$

$$\begin{array}{r} 748 \\ -459 \\ \hline \end{array}$$

$$\begin{array}{r} 563 \\ -427 \\ \hline \end{array}$$

$$\begin{array}{r} 805 \\ -412 \\ \hline \end{array}$$

$$\begin{array}{r} 755 \\ -46 \\ \hline \end{array}$$

$$\begin{array}{r} 123 \\ 25 \\ +2 \\ \hline \end{array}$$

$$\begin{array}{r} 26 \\ 93 \\ +346 \\ \hline \end{array}$$

$$\begin{array}{r} 659 \\ 59 \\ +47 \\ \hline \end{array}$$

$$\begin{array}{r} 425 \\ 5 \\ +42 \\ \hline \end{array}$$

$$\begin{array}{r} 38 \\ 567 \\ +17 \\ \hline \end{array}$$

$$\begin{array}{r} 136 \\ 452 \\ +275 \\ \hline \end{array}$$

$$\begin{array}{r} 392 \\ 244 \\ +156 \\ \hline \end{array}$$

$$\begin{array}{r} 256 \\ 434 \\ +141 \\ \hline \end{array}$$

$$\begin{array}{r} 573 \\ 211 \\ +101 \\ \hline \end{array}$$

$$\begin{array}{r} 285 \\ 505 \\ +133 \\ \hline \end{array}$$

20 Colora els següents elements: el munt d'arena més xicotet, el rastell menys llarg, la pala més ampla, el castell més baixet i l'objecte més llunyà.



21 Hui han anat a la platja 216 persones al matí, i 345 a la vesprada. Quantes persones han estat a la platja?

