



quadern de  
**matemàtiques**



**Divisions per dues i tres xifres.**

# quadern de matemàtiques

# 1 1

## projecte educatiu Faro



Este llibre està imprès sobre paper reciclable,  
ecològic, lliure de clor, i contribueix al  
desenvolupament sostenible dels boscos.

**Il·lustració:**

Gustavo Otero

**Edició:**

Equip Dylar

**Maquetació:**

copion

**Impressió:**

Brosmac, S.L.

**ISBN Quadern:** 978-84-95280-61-9

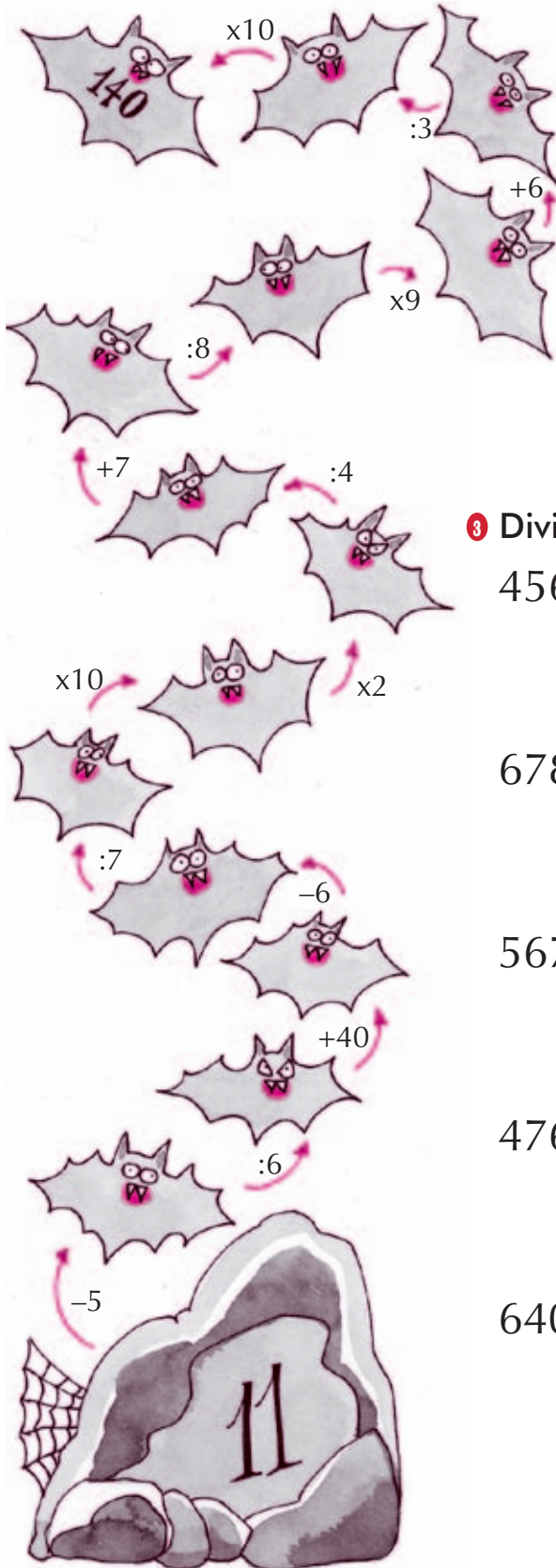
**Dipòsit Legal:**

© Projecte educatiu Faro.



www.dylar.es  
e-mail: dylar@dylar.es  
Tel.: 902 44 44 13

**1 Completa.**



**2 En una cova hi ha 726 rates-penades. Cada segon ixen 6 de la cova. Quant de temps tardaran en eixir totes?**

Els costarà eixir \_\_\_\_\_

**3 Dividix.**

456 | 2      450 | 3      740 | 4

678 | 5      854 | 6      814 | 7

567 | 8      342 | 9      405 | 5

476 | 7      741 | 3      607 | 9

640 | 4      233 | 6      459 | 8




4 Dividix.

$112 \overline{)2} \quad 421 \overline{)3} \quad 374 \overline{)4}$

$417 \overline{)9} \quad 908 \overline{)8} \quad 267 \overline{)9}$

$678 \overline{)5} \quad 784 \overline{)6} \quad 848 \overline{)7}$

5 Completa el quadre. Per a ajudar-te, fixa't bé en les divisions de l'esquerra.



6 Escriu amb lletra els nombres.

85426: .....

90202: .....

125213: .....

142735: .....

170857: .....

7 Dividix.

$764 \overline{)5} \quad 206 \overline{)7} \quad 468 \overline{)8} \quad 685 \overline{)6}$

$421 \overline{)4} \quad 217 \overline{)9} \quad 780 \overline{)9}$



8 Dividix.

$435 \overline{)7}$

$260 \overline{)6}$

$552 \overline{)5}$

$1789 \overline{)4}$

$253 \overline{)6}$

$600 \overline{)7}$

$432 \overline{)8}$

$1642 \overline{)9}$

9 Completa. Cada bloc és el resultat de sumar (+) o multiplicar (x) els dos blocs que té davall seu.

$3+8=11$

$7 \times 3 = 21$

10 Realitza les divisions.

$784 \overline{)9}$

$235 \overline{)6}$

$483 \overline{)7}$

Comprova si has solucionat bé les divisions omplint el quadre.

D	d	c	r		d·c+r	
784					=	
235					=	
483					=	



11 Dividix

$121 \overline{)11}$

$156 \overline{)12}$

$294 \overline{)21}$

$253 \overline{)23}$

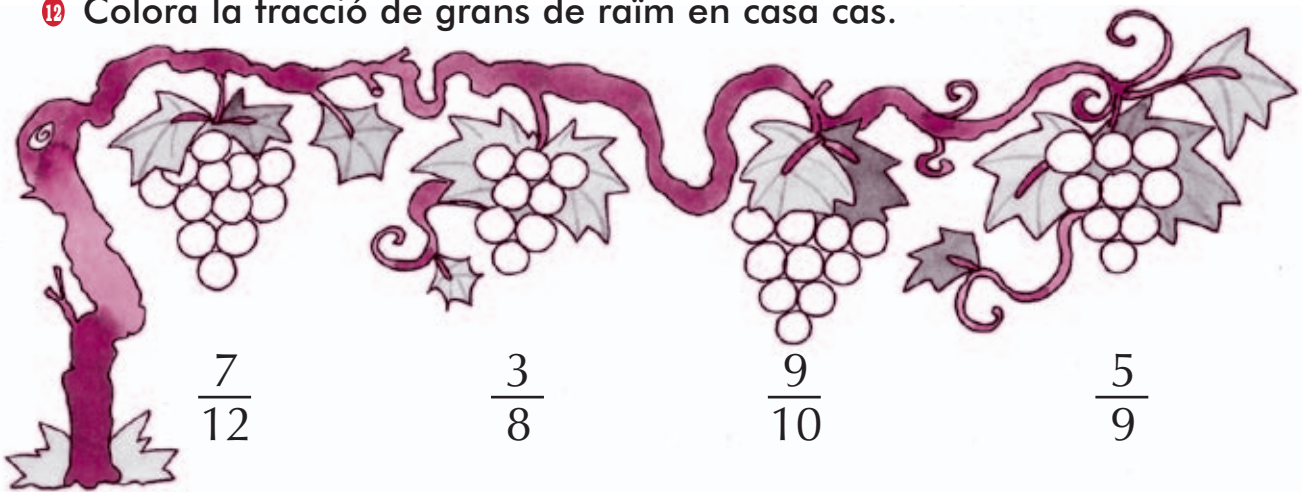
$528 \overline{)24}$

$682 \overline{)22}$

$273 \overline{)13}$

$448 \overline{)14}$

12 Colora la fracció de grans de raïm en casa cas.



13 Dividix i comprova si has resolt bé les divisions.

$698 \overline{)33}$

$805 \overline{)25}$

$716 \overline{)31}$





Prova:

Prova:

Prova:



14 Completa.

	:	3	=	
x		x		x
4	x		=	
=		=		=
	:	3	=	8

15 Escriu amb nombres.

CXXV =

CCCLXXXIX =

DCCII =

MIV =

MCMXC =

MMIX =

16 Dividix

384 | 34

421 | 43

888 | 22

625 | 33

476 | 21

700 | 31

850 | 24

405 | 15

126 | 25

347 | 14

506 | 32

241 | 11

17 Acaba les dues últimes cares de la sèrie



**18** Dividix.

$$575 \overline{)16}$$

$$394 \overline{)41}$$

$$120 \overline{)35}$$

$$969 \overline{)61}$$

$$291 \overline{)45}$$

$$750 \overline{)26}$$

$$374 \overline{)42}$$

$$517 \overline{)51}$$

$$474 \overline{)44}$$

$$177 \overline{)53}$$

$$494 \overline{)62}$$


$$151 \overline{)52}$$

**19** Des de l'oficina de Pepa han cridat als següents números: 430006 - 430323 - 460116 y 430262.



Construix la taula de les vegades que han marcat cada tecla.

Construix la gràfica amb la taula de l'esquerra.



Quina és la moda (tecla més premuda)? -----