



quadern de  
**matemàtiques**



**Sumes i restes sense portar-ne.**

# quadern de matemàtiques

# 17

## projecte educatiu Faro



Este llibre està imprès sobre paper reciclable,  
ecològic, lliure de clor, i contribueix al  
desenvolupament sostenible dels boscos.

**Il·lustració:**

Gustavo Otero

**Edició:**

Equip Dylar

**Maquetació:**

copion

**Impressió:**

Brosmac, S.L.

**ISBN Quadern:** 978-84-95280-67-1

**Dipòsit Legal:**

© Projecte educatiu Faro.




www.dylar.es  
e-mail: dylar@dylar.es  
Tel.: 902 44 44 13

1 Anna veu



Arriben



$$4 + 3 = \square$$

Ara veu ..... pardals.

2 Tinc

$$\begin{array}{r} 5 \\ +4 \\ \hline \square \end{array}$$



cromos.

Entre les dues mans tinc ..... cromos.

3 Ma mare té



. Posa



Quants plàtans hi ha en el fruiter?

$$\begin{array}{r} 7 \\ +3 \end{array}$$

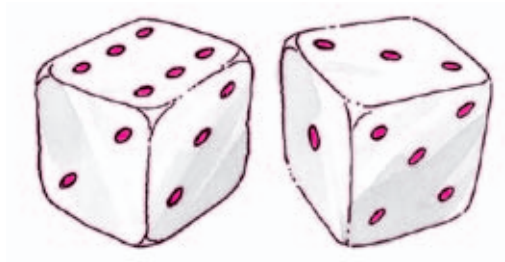
$$7 + 3 = \square$$

En el fruiter hi ha ..... plàtans.



4 Quantes caselles avançaré?

Operació:



Avançaré ..... caselles.

5 Tenim dues oques, una amb 12 ous i una altra amb set. Quants ous hi ha en total?

Operació:



Hi ha ..... ous.

6 Per adornar una jardinera hem comprat 17 geranis i onze rosers. Quantes plantes tenim?

Operació:

..... plantes.

7 El catxerulo d'Enric té un fil de tretze metres. Si afegixen 14 metres. Quant medix ara?

Operació:



Medix .....




8 En un jardí hi ha tres bancs rojos i vuit de blancs. Quants bancs blancs hi ha?

Operació:

Hi ha .....

9 Fiquen 5 pomes més i aleshores pesa un quilo. Quantes pomes entren en un quilo?


Operació:



Entren ..... pomes.

10 Quants animals hi ha?

Operació:



..... animals

11 A una excursió van 11 xiquets i 14 xiquetes. Què n'hi ha més, de xiquets o de xiquetes?

xiquets

xiquetes



Quantes places hauria de tenir l'autobús perquè hi sequen tots?

11

25


14



12 Anna veu



Se'n van



$$7 - 3 = \square$$

Ara sols hi veu ..... pardals.

13 Zinc



Perd 4 cromos.



$$\begin{array}{r} 9 \\ -4 \\ \hline \square \end{array}$$

En queden ..... cromos.

14 Ma mare té



Me'n menja 2.



$$\begin{array}{r} 8 \\ -2 \\ \hline \square \end{array}$$

$$8 - 2 = \square$$

En el fruiter he deixat ..... plàtans.



- 15 D'una corda de 9 metres en talle tres. Quants metres em queden?

Operació:

Resposta: .....

- 16 D'un conte que té 18 pàgines en llig 12. Quantes em falten encara per acabar-lo?

Operació:



Me'n falten .....

- 17 Quantes en tenia i quantes li'n queden?

Operació:




Resposta: .....

- 18 Un viatjant ix amb 25 litres de benzina i torna amb 13. Quants n'ha gastat en el viatge?


Operació:

Resposta:

.....



# Mercat de l'avi



19 Miquel compra un ós i un baló. Quant s'ha gastat?

Gasta ..... euros.

20 Antoni compra un ós i un avió. Quant paga?

..... euros.

21 Qui dels dos ha gastat més?

.....

Quants euros més?

..... euros

22 Maria compra una nina i un altre joguet. Paga 39 euros. Quin és l'altre?

És: .....

