



quadern de
matemàtiques



Sumes i restes portant-ne.

quadern de matemàtiques

19

projecte educatiu Faro



Este llibre està imprès sobre paper reciclable,
ecològic, lliure de clor, i contribueix al
desenvolupament sostenible dels boscos.

Il·lustració:

Gustavo Otero

Edició:

Equip Dylar

Maquetació:

copion

Impressió:

Brosmac, S.L.

ISBN Quadern: 978-84-95280-69-5

Dipòsit Legal:


© Projecte educatiu Faro.



www.dylar.es
e-mail: dylar@dylar.es
Tel.: 902 44 44 13

- 1 En la 1a bóta hi ha el doble de vi que en la 2a.
 En la 2a bóta hi ha 40 litres.
 En la 3a bóta hi ha la meitat de vi que en la 2a.




En la  hi ha litres

En la  hi ha litres

En total, hi ha entre les tres bótes litres

- 2 Quant pesarà el xiquet més alt?



- 3 Completa el text i resol.
 En una cursa de relleus Maria recorre metres,
 Andreu i Enric metres.

Operació:

$$50 + 68 + 32 =$$

Tots tres recorren metres.



- 4 En la meua classe som 25 alumnes. Cinc s'han posat malalts i 7 se'n van de vacances. Quants alumnes som hui a classe?

Operació:

.....alumnes

- 5 Una conilla va tenir ahir 11 conillets i el mes passat 4 menys. Quants conillets han nascut entre els dos mesos?

Operacions.




Li han nascut conillets.



Operacions.

Quants km duen escapat entre els dos?
..... km.



7 A la primera sessió del circ assistixen 96 persones i a la 2a sessió trenta-cinc més que abans.

a) Quantes van a la segona sessió?

61 96 131

c) Quantes van en total?

227 96 61

b) Quantes més van a la segona que a la primera?

96 35 61

d) Quantes menys van a la 1a sessió que a la 2a?

35 61 96

8 Ahir vaig llegir 7 pàgines d'un llibre i hui he llegit 12 pàgines. Si ahir vaig començar en la pàgina 46, en quina pàgina he acabat hui?

Operació:



Resposta:

9 En un balcó hi ha 34 plantes. Una gelada en fa malbé 18. Quantes plantes queden al balcó?

Operació:



Resposta:



10 El mes de març té 31 dies i el mes d'abril un de menys. Quants dies tenen entre els dos mesos?

Operació:

Resposta:

* Quants dies té gener?

11 Quants diners tinc dins la vidriola?

Operació:



..... pessetes.

12 Un trencaclosques gran té 146 peces i un menut 85 peces menys. Quantes peces tenen entre els dos?


Operacions:



Resposta:

* En un embassament hi ha 30 truites. Un pescador n'agafa dèsset. Quantes truites pot menjar-se?

Operació:



Es pot menjar

Eroba els resultats correctes

14 En una llibreria hi ha 3 prestatges. El 1r té 47 llibres, el segon 68 i el 3r el doble que el 1r.

a) Quants llibres hi ha en el 3r prestatge?

Operació:



.....

c) Quants més hi ha en el 3r que en el 1r?

Operació:



.....

b) Quants llibres menys hi ha en el 2n que en el 3r?

Operació:



.....

d) Quants llibres hi ha en total?

Operació:



.....

Passa ratlla als resultats incorrectes.

26 llibres 21 llibres 47 llibres 94 llibres 209 llibres 218 llibres

15 Quina és la diferència entre els dos resultats que no has utilitzat en l'exercici anterior?

Operació:



Resposta:



- 16 Per a entaulellar una casa comprem 123 taulells rojos i 25 de blaus més que de rojos. Quants taulells hem adquirit?

Operacions:

..... taulells

- 17 Aitor s'ha menjat 23 caramels. Tenia una capsa amb el doble. Quants li'n queden?

Operació:



..... caramels.


- 18 Completa el text i resol.

Juli té en la seua col·lecció segells d'Espanya, Portugal i de Japó.

¿ ?

Operació:


$$122+89+16=$$



..... segells

- ✶ En una muntanya tallen 25 pins i dèsset avets. Encara queden 85 arbres. Quants arbres poden tallar encara?

Operació:



Resposta: