



quadern de
matemàtiques



**Sumes, restes i multiplicacions
per una xifra.**

quadern de
matemàtiques

20

projecte educatiu Faro



Este llibre està imprès sobre paper reciclable,
ecològic, lliure de clor, i contribueix al
desenvolupament sostenible dels boscos.

Il·lustració:

Gustavo Otero

Edició:

Equip Dylar

Maquetació:

copion

Impressió:

Brosmac, S.L.

ISBN Quadern: 978-84-95280-70-1

Dipòsit Legal:

© Projecte educatiu Faro.



www.dylar.es
e-mail: dylar@dylar.es
Tel.: 902 44 44 13

1 Una cistella de creilles pesa 35 quilos. Una altra cistella, de melons, pesa 8 quilos més que la de creilles.

Quant pesa la cistella de melons?

Quants quilos pesen les dues cistelles totes plegades?

Quant pesa Guillem?



2 En la façana dreta del carrer Major d'un poble hi ha 32 fanals i en la façana esquerra 47. Quan arriben les festes afegixen 125 fanalets de paper.

Quants fanals hi ha abans de les festes?



Resposta

Quants fanals menys que fanalets hi ha?

Resposta

Quants llums tenen per a la festa?

Resposta



3 Un agricultor talla 267 quilos de raïm abans de l'hora d'esmorzar, 147 abans de l'hora de dinar i tres-cents seixanta-sis quilos a la vesprada.



a) Quants quilos ha tallat al llarg de tot el matí?

267 414 147

b) En quin moment del dia ha tallat més quilos?

matí vesprada

c) Quants quilos de més?

48 366 147

d) Quants quilos de raïm ha tallat al llarg del dia?

366 633 780


4 Un ciclista recorre 42,35 i 36 quilòmetres en tres hores. Quina distància ha recorregut en total?

Operacions.

En total ha recorregut

5 L'ascensor de ma casa pot pujar 430 quilos. Nosaltres volem pujar un pes de 528 quilos. Quants n'hauem de deixar baix?

Operacions.



Hauem de deixar



- 6 Al magatzem del col·legi podem trobar 35 capses de clarió blanc. També podem trobar clarió de colors, del qual hi ha 7 capses més que de blanc. Quantes capses hi ha en total?

Operacions.



Hi ha


- 7 En la festa d'aniversari de Martí s'han repartit 14 barrets. Com no hi ha barrets per tots, 5 xiquets se n'han quedat sense. Quants xiquets han anat a la festa de Martí?

Operacions.



Resposta

- 8 Quantes monedes tenen entre els tres?



Resposta



Embolic de resultat

Éot i fer-me una rebaixa de 125 euros per comprar un regal que costava 864 euros, me'n falten encara 60.

9 Quant costa el regal sense rebaixar-lo?

Operació.

11 Quants diners duia jo al damunt?

Operació.



10 J amb la rebaixa?

Operació.



12 Quants diners em faltarien sense el descompte?

Operació.

Zatsca la resposta incorrecta

989 euros 864 euros 739 euros 185 euros 679 euros

13 Neus té 12 anys. Quants li'n faltaran dins de dos anys per a tenir-ne 27?

Operacions.



Resposta



- 14 Un granger agafa quatre-cents noranta-un ous del galliner. Quan ix del galliner rellisca i trenca 146 ous. Quants ous li queden?


Operacions.



Li'n queden

- 15 Quants punts han encistellat entre els tres jugadors de bàsquet?

Operacions.



Resposta

* Completa el text i resol.
 Un avió du hostesses, pilots i
 passatgers.

?

Operació

$127 + 5 + 2 =$

..... persones.



Descobreix el refrany

A la classe de 2n A hi ha dotze xics i 11 xiques. A la de 2n B tres xiques i 19 xics.

17 Quants xics hi ha en tot el 2n curs?

Operació.



Resposta

al

19 Quants xics més que xiques hi ha?

Operació.

Resposta

taula

18 Quantes xiques podem trobar en tot segon?

Operació.



Resposta

a

20 Quants alumnes hi ha en total en tot el 2n?

Operació.

Resposta

llit

25 Ordena les respostes anteriors de menor a major. Copia les paraules que hi ha davall dels resultats i llegiràs un refrany conegut.

Resposta: < < <

Paraules:

[] [] [] []

