



quadern de
matemàtiques



**Operacions combinades.
Suma, resta i multiplicació
amb decimals.**

quadern de matemàtiques

24

projecte educatiu Faro



Este llibre està imprès sobre paper reciclable,
ecològic, lliure de clor, i contribueix al
desenvolupament sostenible dels boscos.

Il·lustració:

Gustavo Otero

Edició:

Equip Dylar

Maquetació:

copion

Impressió:

Brosmac, S.L.

ISBN Quadern: 978-84-95280-74-9

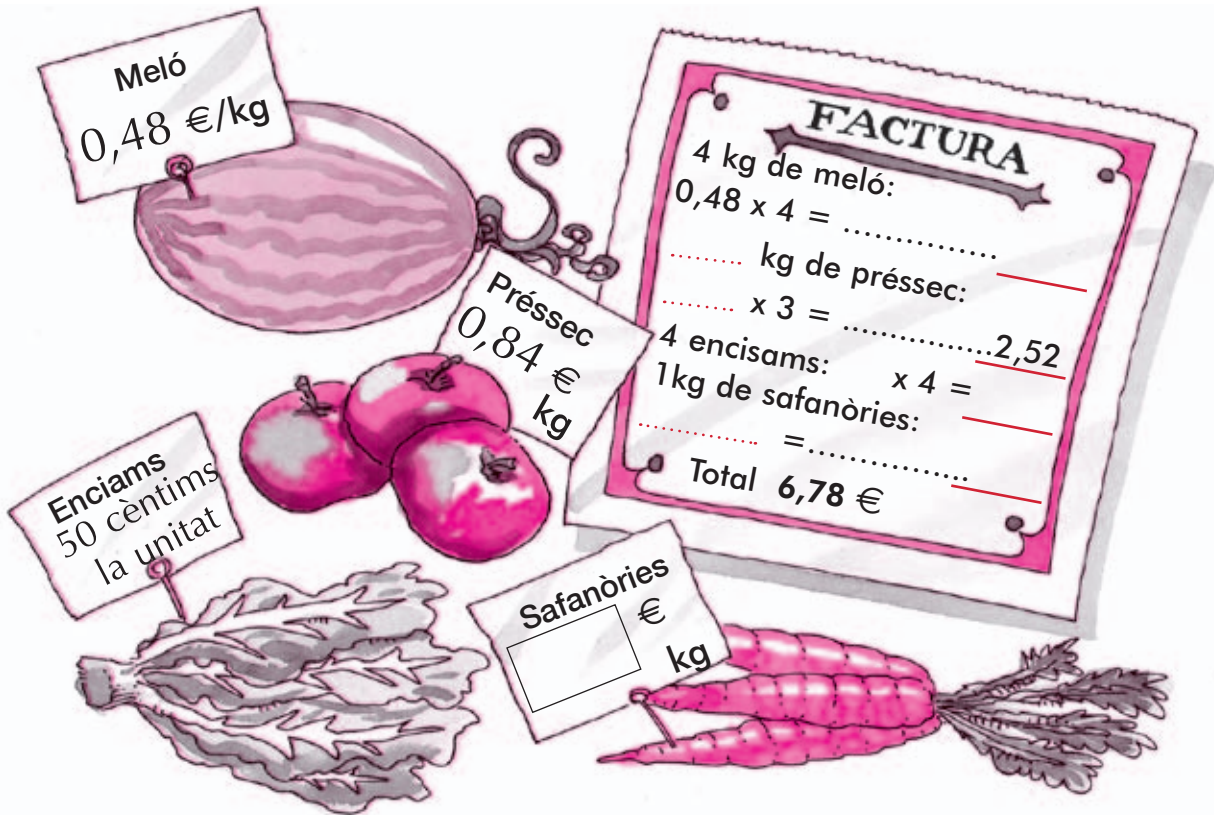
Dipòsit Legal:

© Projecte educatiu Faro.




www.dylar.es
e-mail: dylar@dylar.es
Tel.: 902 44 44 13

- 1 Regirant el bagul de l'àvia he trobat una factura que té algunes de les seues dades esborrades. Completa-la.



- 2 Col·loca el nom de cada esportista al pòdium.
 Pau salta 3,25 metres.
 Rafa salta 1,5 metres més que Lluís.
 Lluís salta 0,4 metres menys que Pau.



- 3 La porta de l'horta del meu avi tenia 1,95 m d'alçada. Aquest matí mon pare l'ha rebaixada en 19cm. Quant medeix ara?
Operació.

Resposta

- 4 Un hortolà cull 7 carabasses de 3,2 kg cada carabassa. Quans quilos pesen en total totes les carabasses?
Operació.



Resposta

- 5 Un camió que transporta 6 bous per a una correguda té un pes de 6625 kg. Quant pesarà cada bou? El camió pesa 3500 kg tot sol.
Operacions.



Resposta

- 6 Una torradora de café torra 145 kg de café a l'hora. Quants kg torrarà en 16 dies si l'engeguem un total de 8 hores diàries?
Operacions.



Resposta

- 7 Una dona compra 2 kg de plàtans, 3,8 de taronges i 1,6 kg de raïm. Quants kg pesarà la cistella de la compra de la dona?
Operacions.



Resposta

- 8 La cinta d'eixida d'una cursa popular medix 4,85 m i la d'arribada 1,1 m més que la d'eixida. Quants m. medixen si unim totes dues?
Operacions.



Resposta

- 9 En una bijuteria tenen 1200 imitacions de perles menudes i 2085 de grans. Quants collars podran fer si en cada collar col·loquen 73 perles?
Operacions.



Resposta

- 10 Quin nombre cal sumar a 837,62 per obtenir el 978,3?
Operacions.

Resposta

- 11 Un pintor compra 12 pots de pintura blanca de 1,7 kg cada pot. Quanta pintura ha comprat?
Operacions.



Resposta

- 12 En un sac tenim 47 kg de ciment en pols. Si utilitzem 18 kg i se'ns fan malbé 13 kg menys dels que hem utilitzat, quant de ciment queda dins del sac?
Operacions.



Resposta



- 13 L'Albert és capaç de dur un pes de 27 kg i mig en cada viatge que fa. Quants de quilos durà en 18 viatges?

Operacions.

Resposta

- 14 El meu avi té 70 anys, açò és, set voltes la meua edat. Quants anys tenim tots dos plegats?

Operacions.



Resposta

- 15 He fet un compra al magatzem de Miquel. Li pague amb dos bitllets de 100 euros i Miquel em torna 1 bitllet de 50 euros, 4 bitllets de 5 €, 3 monedes d'1 i dues monedes de 0,20€ Quant m'ha costat la compra? Quant em torna Miquel?

Operacions.



Resposta 1^a

2^a

- 16 Quant medirà una grua de 15,7 m si li afegim dos trossos de 2,6 i 4,25 m respectivament?

Operacions.

Resposta

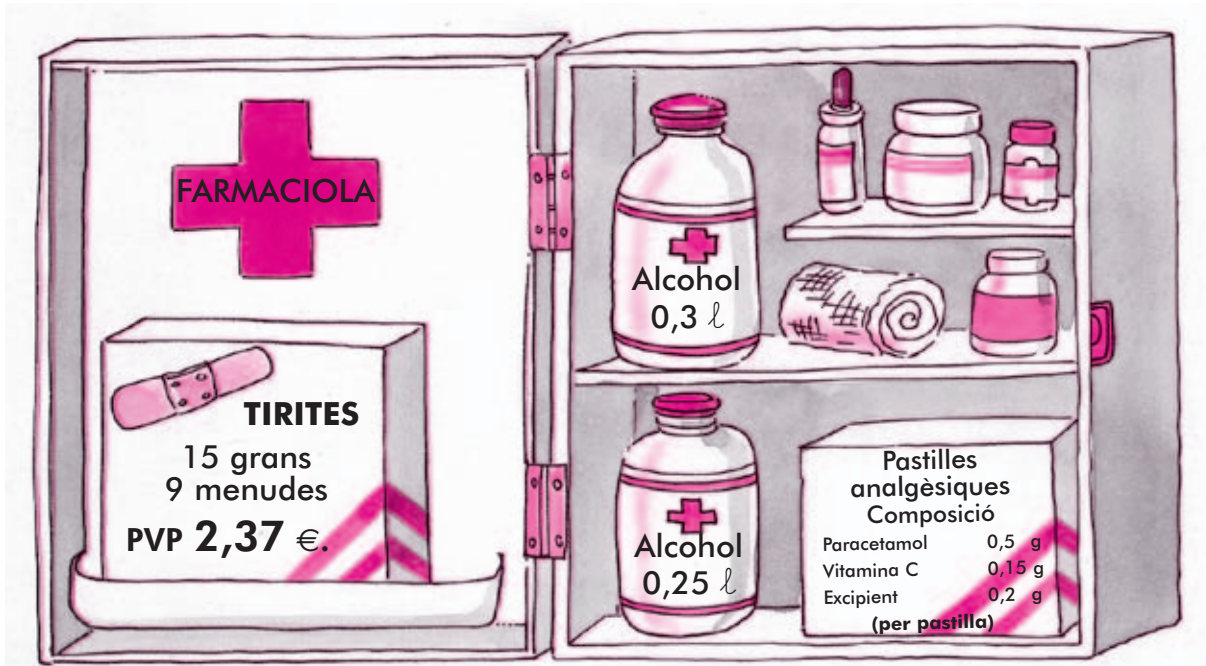
- 17 El quadern de Ferran medix 12,35 cm menys que el d'Alfons. Si el quadern d'Alfons té 57 cm, quant medix el quadern de Ferran?

Operacions.



Resposta.....





18 Quants grams tindrà el contingut d'una capsa de 15 pastilles analgèsiques?

Operacions.



Resposta

19 Volem omplir els dos flascons d'alcohol de la farmaciola amb una ampolla d'un litre. Quant d'alcohol quedarà en l'ampolla?

Operacions.

Resposta

20 Quant val una tireta menuda, si cada una de les grans costa 11 cèntims?

Operacions.



Resposta



- 21 Per fer un jersei de llana ma mare ha utilitzat 17 madeixes de 45 metres i mig cada madeixa. Quants metres ha utilitzat ma mare en el jersei?
Operacions.



Resposta

- 22 Tinc 640 llapis de colors i me'n falten 224 per omplir 72 capses completes. Quants llapis de colors vull col·locar en cada capsa?
Operacions.

Resposta

- 23 En una cantimplora caben 1,25 litres d'aigua, i en una altra litre i mig. Quina quantitat d'aigua cap en una més que en l'altra?
Operacions.



Resposta

- 24 Mon pare ha col·locat tres fils a la paret per estendre la roba. Tres dels fils tenen 4,2 metres i un quart 3,65 metres. Quant de fil ha necessitat mon pare?

Operacions.



Resposta

- 25 Quant li costarà tot el fil si cada metre val 1,2 €/m?
Operacions



Resposta