



cuaderno de
matemáticas



**Sumas, restas y multiplicaciones
por una cifra**

cuaderno de matemáticas 20

proyecto educativo faro



Este libro está impreso sobre papel reciclable, ecológico, libre de cloro, y contribuye al desarrollo sostenible de los bosques.

Ilustración

Gustavo Otero

Edición

Equipo Dylar

Maquetación

copion

Impresión

Brosmac, S.L.

ISBN cuaderno: 978-84-89655-73-7

Depósito Legal:

© Proyecto Educativo Faro

© **DYLAR Ediciones**

www.dylar.es

E-mail: dylar@dylar.es

Tel.: 902 44 44 13

1 La cesta de patatas pesa 35 kilos. La cesta de melones pesa 8 kilos más que la de patatas.

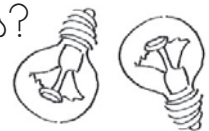
¿Cuánto pesa la cesta de melones?

.....
¿Cuánto pesan las dos cestas juntas?
.....

¿Cuánto pesa Guillermo?



2 En la acera derecha de la calle Mayor de un pueblo hay 32 farolas y en la acera izquierda 47. Al llegar las fiestas añaden 125 farolillos. ¿Cuántas farolas hay antes de las fiestas?



Respuesta

¿Cuántas farolas menos que farolillos hay?

Respuesta

¿Cuántas luces tienen para la fiesta?

Respuesta



3 Un agricultor corta 267 kilos de uva antes de almorzar, 147 antes de la comida y trescientos sesenta y seis kilos por la tarde.



a) ¿Cuántos ha cortado en toda la mañana?

267 414 147

b) ¿Cuándo ha cortado más kilos?

mañana tarde

c) ¿Cuántos kilos más?

48 366 147

d) ¿Cuántos ha cortado en todo el día?

366 633 780

4 Un ciclista recorre 42, 35 y 26 kilómetros en tres horas. ¿Qué distancia ha recorrido en total?
Operaciones.

En total ha recorrido

5 El ascensor de mi casa puede subir 430 kilos. Queremos montar un peso de quinientos veintiocho kilos. ¿Cuántos tenemos que dejar abajo?
Operaciones.




Tenemos que dejar abajo



- 6 En un almacén del colegio hay 35 cajas de tizas blancas y 7 de colores más que blancas. ¿Cuántas hay en total?

Operaciones.



En total hay.....

- 7 En una fiesta de cumpleaños se reparten 14 gorros. Como no llegan para todos, 5 niños aparecen sin gorro. ¿Cuántos niños asistieron a la fiesta?

Operaciones.



Respuesta

- 8 ¿Cuántas monedas tendrán entre los tres?



Respuesta

Tengo

Tengo



Revuelto de resultados

Después de descontarme 125 euros por un regalo que costaba 864 me faltan 60 euros.

9 ¿Cuánto vale el regalo sin descuento?

Operación.

10 ¿Y con descuento?

Operación.



11 ¿Cuánto dinero llevaba?

Operación.



12 ¿Cuánto me faltaría sin el descuento?

Operación.

¿acha la respuesta incorrecta

989 euros 864 euros 739 euros 185 euros 679 euros

13 Amelia tiene 12 años. ¿Cuántos le faltarán dentro de dos años para tener 27 años?

Operaciones.



Respuesta



14 Un granjero recoge cuatrocientos noventa y un huevos del gallinero. Al salir resbala y rompe 146. ¿Cuántos le quedarán?


Operaciones.



Le quedarán

15 ¿Cuántos puntos han anotado entre los tres jugadores?

Operaciones.



Respuesta

* Completa el texto y resuelve.

Un avión lleva azafatas, pilotos y pasajeros.

¿ ?

Operación

$$127 + 5 + 2 = \dots\dots\dots$$

..... personas.



Descubre el refrán

En la clase de 2^ºA hay doce chicos y 11 chicas.
En 2^ºB hay tres chicas y 19 chicos.

17 ¿Cuántos chicos hay en 2^º curso?

Operación.



Respuesta

espejo

18 ¿Cuántas chicas hay en segundo?

Operación.



Respuesta

no

19 ¿Cuántos chicos más que chicas hay?

Operación.

Respuesta

hay

20 ¿Cuántos alumnos hay en total en segundo curso?

Operación.

Respuesta

que

25 Ordena las respuestas anteriores de menor a mayor. Copia las palabras que hay debajo de los resultados y leerás el refrán.

Respuesta: < < <

Palabras:

Four empty boxes connected by lines, intended for copying the words from the previous step.

